

**Tasg 2**

## Gwneud iwrt

Rydych chi eisiau gwneud tri iwrt yn yr ysgol.

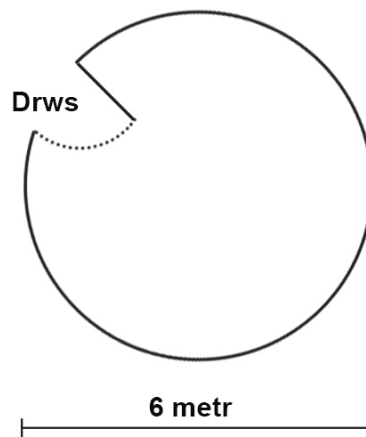
Yn gyntaf, rhaid i chi gyfrifo faint o ddefnydd a faint o garped rydych chi angen.

Atebwch y cwestiynau isod.

Dangoswch eich gwaith cyfrifo.

**Iwrt 1**

Dyma'r llawr:



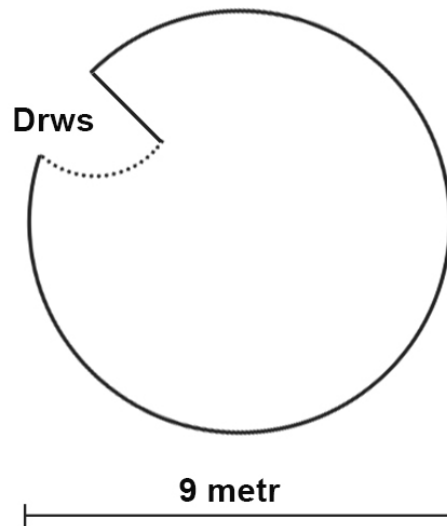
1. Beth ydy cylchedd yr iwrt?

2. Mae'r waliau yn 3 metr. Faint o ddefnydd ydych chi eisiau ar gyfer y waliau?

3. Faint o garped ydych chi angen ar y llawr?

## Iwrt 2

Dyma'r llawr:



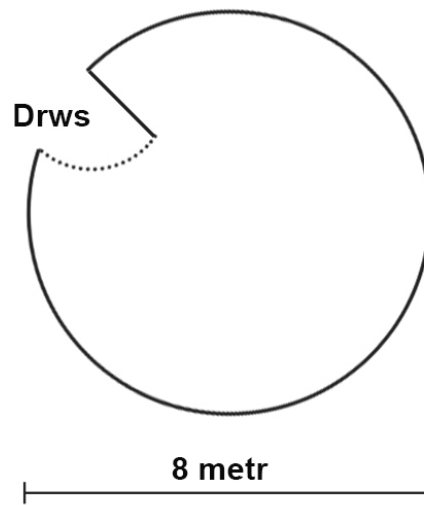
4. Beth ydy cylchedd yr iwrt?

5. Mae'r waliau yn 3 metr. Faint o ddefnydd ydych chi eisiau ar gyfer y waliau?

6. Faint o garped ydych chi angen ar y llawr?

## Iwrt 3

Dyma'r llawr:



7. Beth ydy cylchedd yr iwrt?

8. Mae'r waliau yn 4 metr. Faint o ddefnydd ydych chi eisiau ar gyfer y waliau?

9. Faint o garped ydych chi angen ar y llawr?

## Geirfa

defnydd	material	cylchedd	circumference
angen	(to) need	ar gyfer	for
gwaith cyfrifo	calculations		